

BACCALAURÉAT GÉNÉRAL

SESSION 2017

SCIENCES DE LA VIE ET DE LA TERRE Série S

ÉPREUVE DU JEUDI 22 JUIN 2017

Durée de l'épreuve : 3h30

Coefficient : 8

ENSEIGNEMENT DE SPÉCIALITÉ

L'usage de la calculatrice n'est pas autorisé.

Dès que le sujet est remis, assurez-vous qu'il est complet.

Ce sujet comporte 8 pages numérotées de 1/8 à 8/8.

ATTENTION : ANNEXE (page 8/8) est à rendre avec la copie

PARTIE I - (8 points)

Neurone et fibre musculaire : la communication nerveuse

Expliquer les mécanismes nerveux aboutissant à un mouvement volontaire, incluant le fonctionnement de la synapse neuromusculaire.

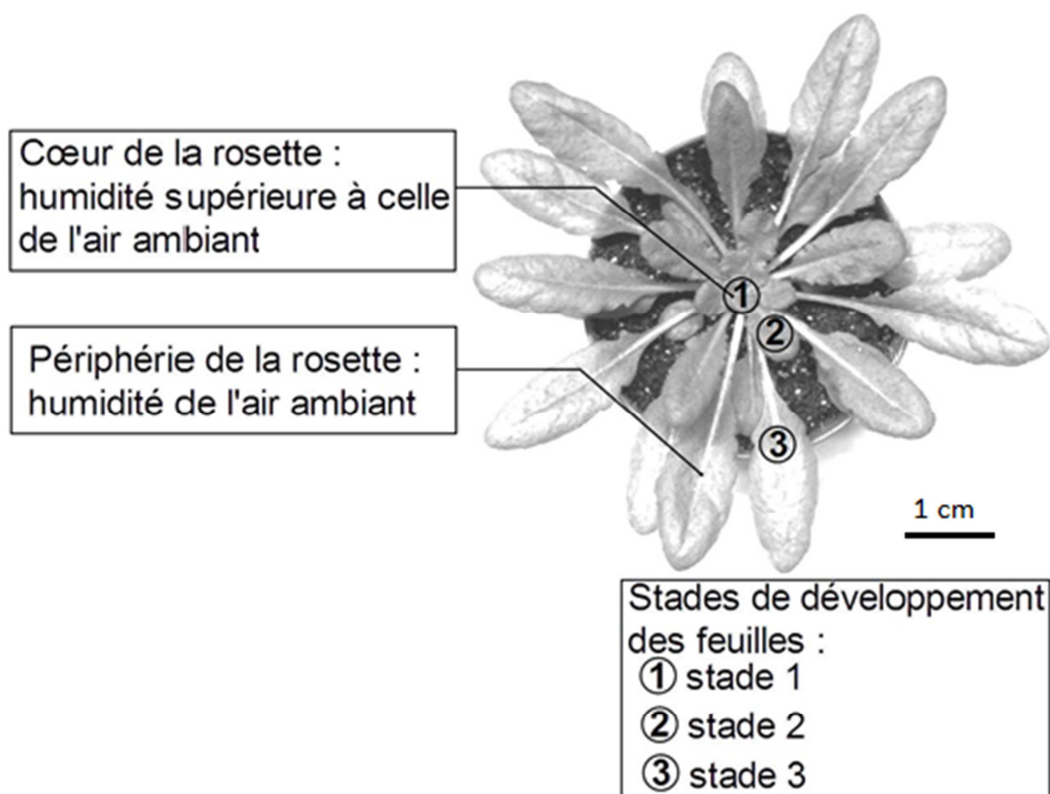
La réponse prendra la forme d'un texte illustré de schémas.

PARTIE II - EXERCICE 1 (3 points)

Génétique et évolution

À partir de l'étude des documents, cocher la bonne réponse dans chaque série de propositions du QCM (ANNEXE de la page 8/8, qui sera à rendre avec la copie).

DOCUMENT 1 : Photographie d'une rosette d'*Arabidopsis thaliana*.

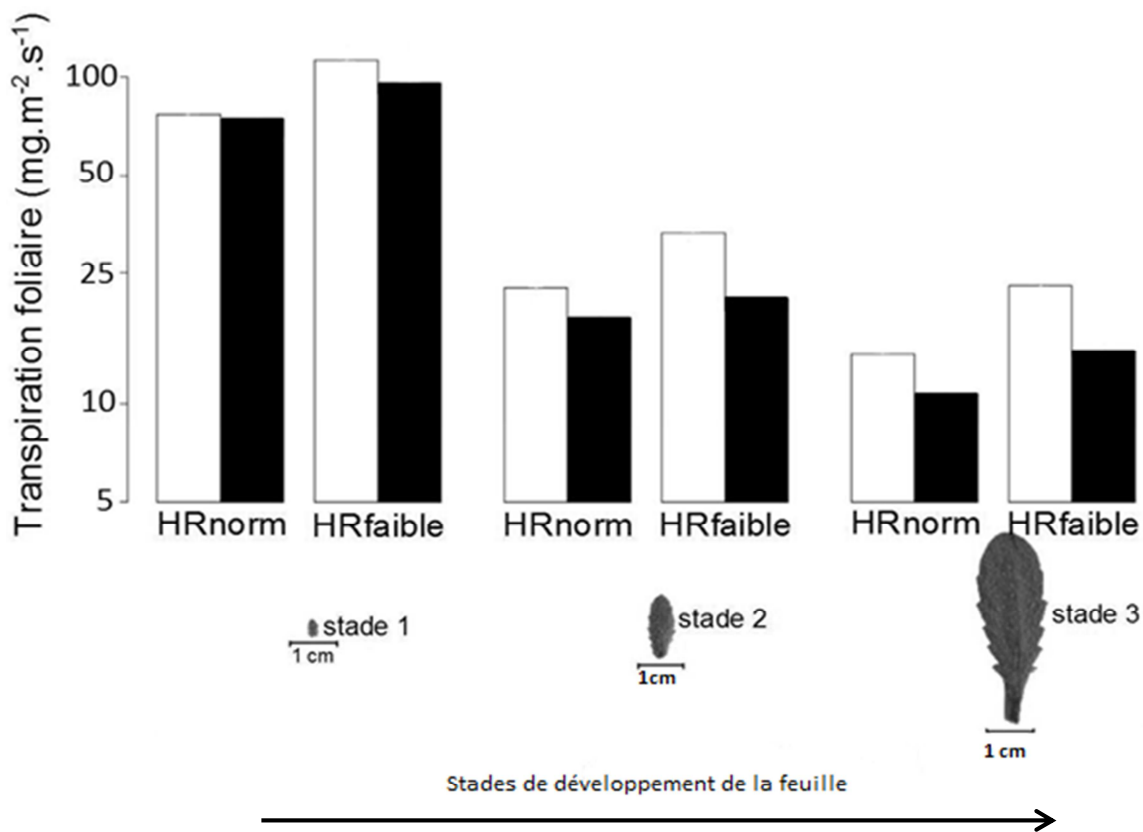


DOCUMENT 2 : Mesures de la transpiration foliaire en réponse à des conditions d'humidité variables.

Conditions expérimentales :

Conditions d'humidité de l'air durant les 24 heures précédant les mesures :
HRnorm : la plante est soumise à l'humidité de l'air ambiant
HRfaible : la plante est soumise à un air sec soufflé au centre de la rosette

Ajout ou non d'acide abscissique (= ABA, molécule synthétisée par les végétaux) :
□ sans ajout d'ABA
■ avec ajout d'ABA



D'après Pantin et al., 2013, Current Biology

PARTIE II - EXERCICE 2 - Enseignement de spécialité (5 points)

Atmosphère, hydrosphère, climats : du passé à l'avenir

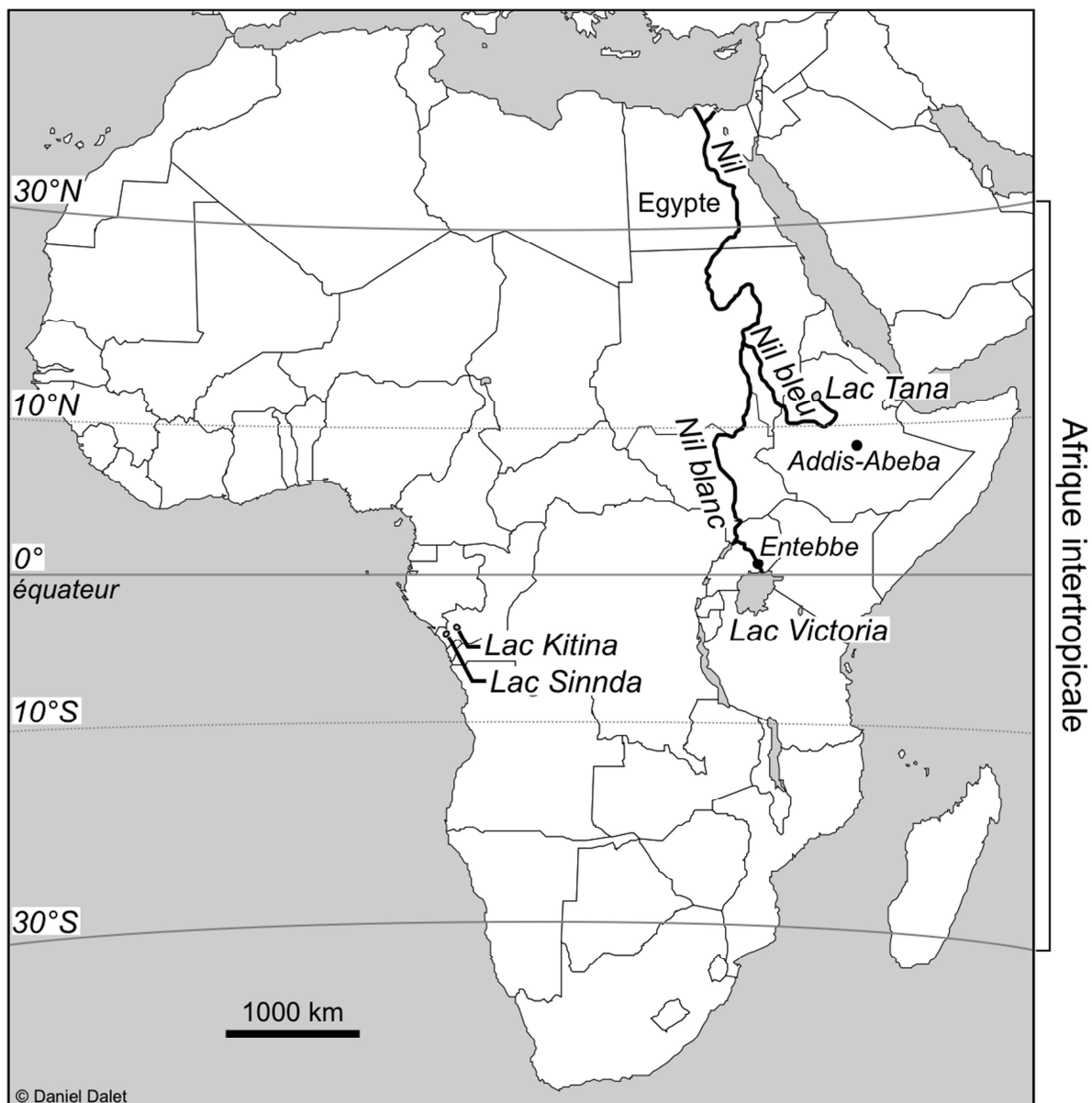
Le musée Testut-Latarjet et le musée des Confluences de Lyon ont mis à disposition des chercheurs des fragments d'os et des dents de momies égyptiennes (datées entre 5500 ans BP* et 1500 ans BP) dans le but d'y trouver des indices sur le climat africain de cette période.

*BP : *Before Present*, c'est-à-dire avant 1950

En utilisant les informations des documents et les connaissances :

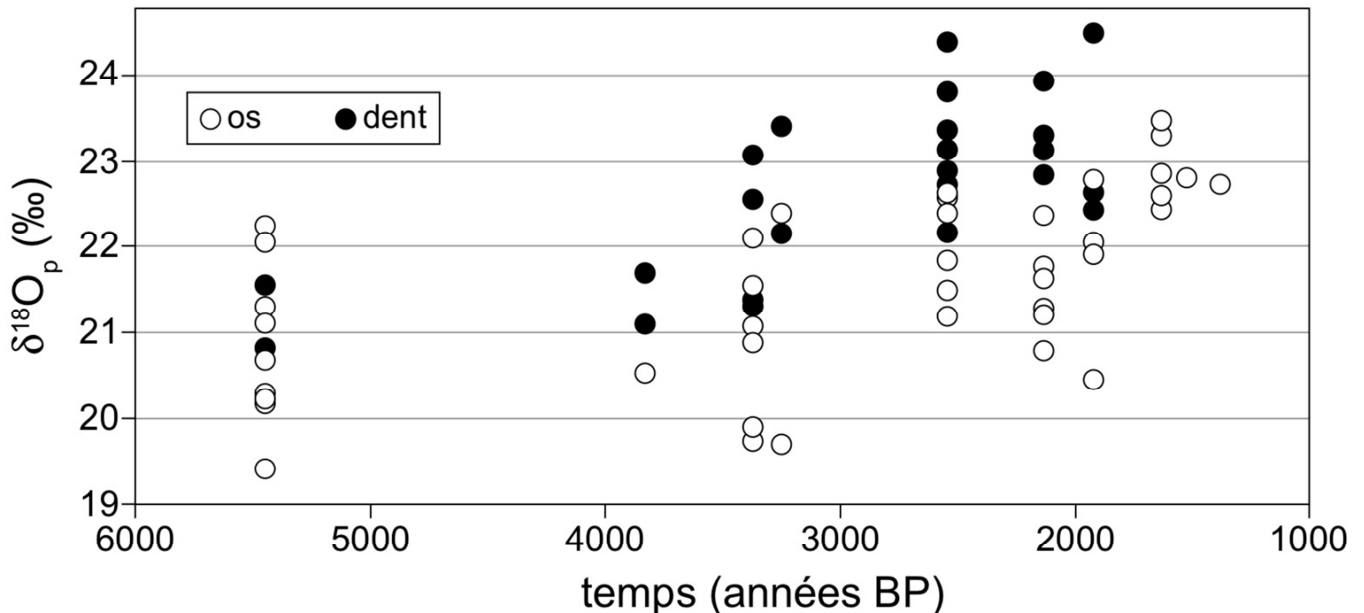
- expliquer comment les études isotopiques menées sur des momies égyptiennes ont permis de reconstituer l'évolution des précipitations en Afrique intertropicale entre 5500 ans BP et 1500 ans BP ;
- montrer que les résultats de cette étude sont en accord avec les données sédimentaires.

DOCUMENT DE RÉFÉRENCE : Localisation géographique des sites étudiés



DOCUMENT 1 : Variation du $\delta^{18}\text{O}$ des os et des dents de momies égyptiennes

L'apatite (phosphate de calcium) constituant de l'os et l'hydroxyapatite (phosphate de calcium hydraté) constituant de l'émail des dents contiennent de l'oxygène dans le groupement phosphate. Des chercheurs ont ainsi pu mesurer le $\delta^{18}\text{O}$ des fragments d'os et des dents de momies égyptiennes ($\delta^{18}\text{O}_p$) couvrant une époque entre 5500 ans BP et 1500 ans BP.



D'après Touzeau et al., 2013, modifié

DOCUMENT 2 : Corrélation entre le $\delta^{18}\text{O}_p$ des os et des dents et le $\delta^{18}\text{O}_w$ de l'eau de boisson

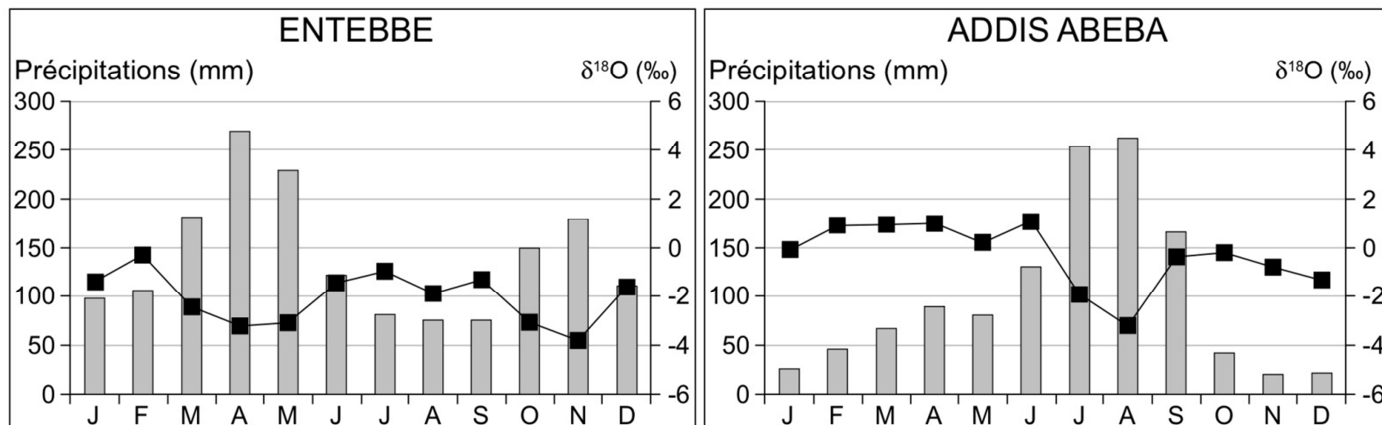
Le $\delta^{18}\text{O}$ mesuré dans les os et les dents des êtres humains ($\delta^{18}\text{O}_p$) est corrélé au $\delta^{18}\text{O}$ de l'eau de boisson ($\delta^{18}\text{O}_w$) par l'équation simplifiée suivante :

$$(\delta^{18}\text{O}_w) = 1,54 (\delta^{18}\text{O}_p) - 33,72$$

Daux et al., 2008

DOCUMENT 3 : Relation entre les précipitations mensuelles (histogramme) et le $\delta^{18}\text{O}$ moyen mensuel de l'eau de pluie (courbe reliant les carrés) à Entebbe en Ouganda et Addis Abeba en Ethiopie

En zone intertropicale, le facteur majeur contrôlant la composition du $\delta^{18}\text{O}$ des eaux de pluie est la quantité de précipitations et non la température.



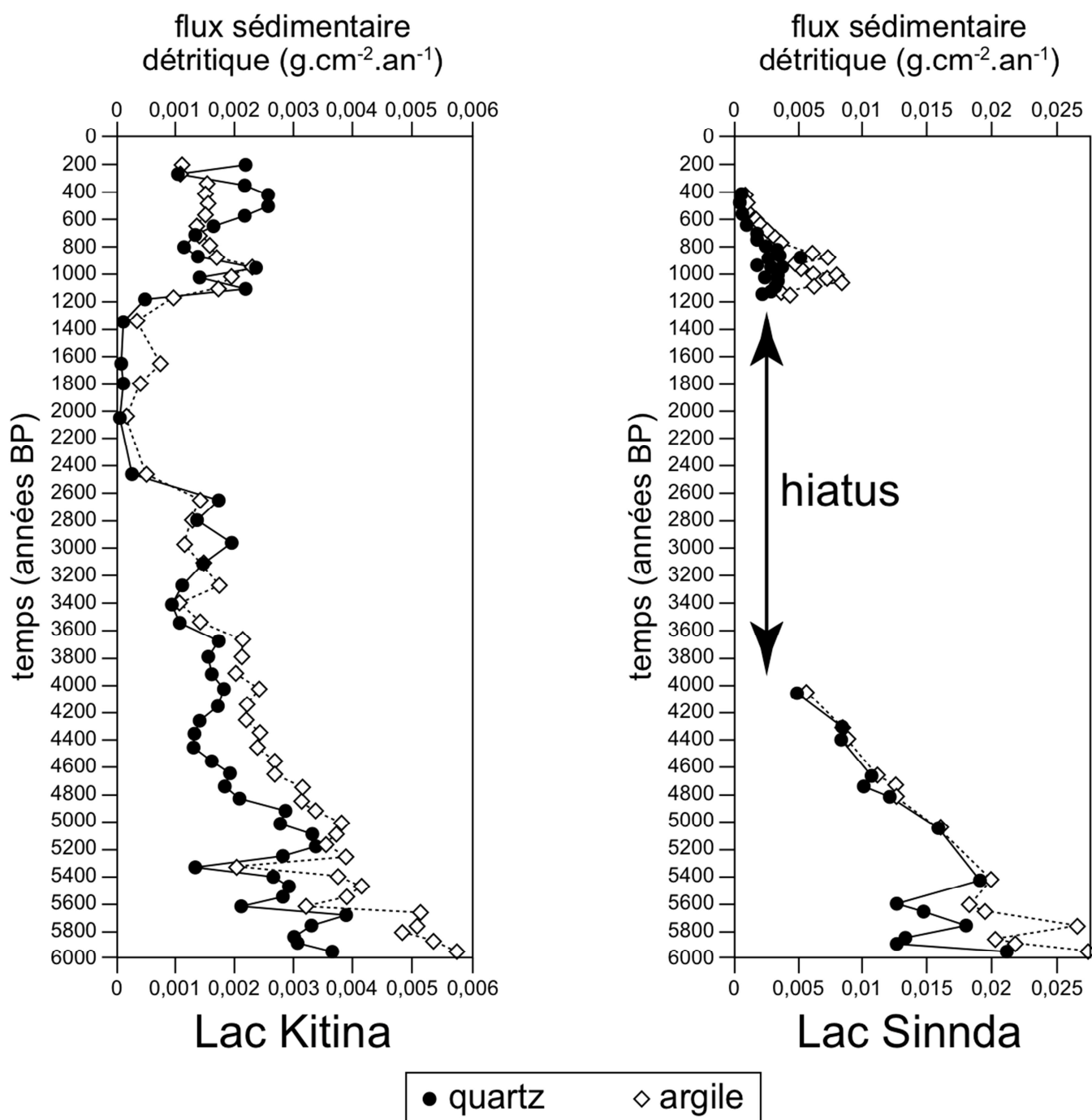
D'après données IAEA/WMO

Dans le cas des Egyptiens, on peut considérer que l'eau de boisson est l'eau du Nil, eau tombée sous forme de pluie au-dessus des régions sources du Nil.

DOCUMENT 4 : Variations des flux sédimentaires détritiques dans les lacs Sinnda et Kitina (République du Congo)

Durant la période étudiée, ces lacs étaient situés en milieu forestier. Dans les milieux forestiers intertropicaux, les particules solides transportées par les cours d'eau proviennent surtout de l'érosion des berges. Ainsi, la charge solide des cours d'eau est directement corrélée aux crues et donc aux précipitations.

Un assèchement complet du lac provoque une interruption de la sédimentation (hiatus).



cnrs.fr – J. Bertaux

ANNEXE : à rendre avec la copie

PARTIE II - EXERCICE 1 (3 points)

Génétique et évolution

QCM

À partir de la lecture des documents, cocher la bonne réponse, pour chaque série de propositions

1 - La transpiration des feuilles de stade 1 d'*Arabidopsis thaliana* :

- | | |
|--------------------------|--|
| <input type="checkbox"/> | est supérieure à celle des feuilles de stade 3 et indépendante des conditions d'humidité de l'air, |
| <input type="checkbox"/> | est inférieure à celle des feuilles de stade 3 et indépendante des conditions d'humidité de l'air, |
| <input type="checkbox"/> | est supérieure à celle des feuilles de stade 3 et dépend des conditions d'humidité de l'air, |
| <input type="checkbox"/> | est inférieure à celle des feuilles de stade 3 et dépend des conditions d'humidité de l'air. |

2 - L'acide abscissique :

- | | |
|--------------------------|--|
| <input type="checkbox"/> | diminue la transpiration foliaire d'autant plus fortement que l'air est sec, |
| <input type="checkbox"/> | diminue la transpiration foliaire d'autant plus fortement que l'air est humide, |
| <input type="checkbox"/> | augmente la transpiration foliaire d'autant plus fortement que l'air est sec, |
| <input type="checkbox"/> | augmente la transpiration foliaire d'autant plus fortement que l'air est humide. |

3 - En se développant, les feuilles d'*Arabidopsis thaliana* :

- | | |
|--------------------------|--|
| <input type="checkbox"/> | sont soumises à un air plus sec et deviennent plus sensibles à l'acide abscissique, réduisant ainsi leur transpiration foliaire, |
| <input type="checkbox"/> | sont soumises à un air plus sec et deviennent plus sensibles à l'acide abscissique, augmentant ainsi leur transpiration foliaire, |
| <input type="checkbox"/> | sont soumises à un air plus sec et deviennent moins sensibles à l'acide abscissique, augmentant ainsi leur transpiration foliaire, |
| <input type="checkbox"/> | sont soumises à un air moins sec et deviennent moins sensibles à l'acide abscissique, réduisant ainsi leur transpiration foliaire. |